

DO NOT OPEN THE SEAL OF THE BOOKLET UNTIL YOU ARE TOLD TO DO SO

EXAM ID. - 10062

Nursery TEACHER'S (NTT/ ECCE) Haryana

TEST SERIES

DATE - __/__/__

DAY -

INSTRUCTION FOR CANDIDATE

उम्मीदवारों के लिए अनुदेश

TEST SERIES NO.

A - 101

QUESTION – 200

MARKS – 200

NEGATIVE MARK – 0

DURATION – 120 MIN

- केवल काले या नीले रंग की स्याही वाले बॉल पेन का ही उपयोग करें
- परीक्षा प्रारंभ होते ही आप इस प्रश्न पुस्तिका की जाँच अवश्य कर ले तथा यदि इसमें कोई बिना छपा कटा-फटा या आंशिक छपा हुआ पृष्ठ अथवा प्रश्न हो, तो इसे अभिजागर के माध्यम से सही प्रश्न पुस्तिका से बदल लीजिए।
- इस प्रश्न पुस्तिका में कुल 200 प्रश्न हैं।
- यह एक वस्तुनिष्ठ परीक्षा है, जिसमें प्रत्येक प्रश्न के उत्तर के लिए चार विकल्प दिए गए हैं, आपको इन चार विकल्पों में से सही उत्तर वाले एक ही विकल्प को चुनना है।
- सभी प्रश्नों के उत्तर अलग अलग से दिए गए उत्तर-पत्रक पर ही अंकित करने हैं।

- उत्तर-पत्रक को भरने हेतु निर्देश उत्तर-पत्रक के पृष्ठ भाग पर अंकित हैं, जिन्हें उत्तर-पत्रक को भरने से पूर्व ध्यान से पढ़ ले।
- इस प्रश्न पुस्तिका में रफ-कार्य के लिए खाली पृष्ठ उपलब्ध हैं।
- परीक्षा समाप्त होने से पूर्व परीक्षार्थी कक्ष से बाहर नहीं जा सकते हैं।
- परीक्षा समाप्त होने के पश्चात् आप उत्तर-पत्रक की ORIGINAL COPY को अभिजागर के पास जमा कराकर उनकी अनुमति से ही बाहर जा सकते हैं।
- परीक्षा समाप्त होने पर प्रश्न पुस्तिका एवं उत्तर-पत्रक की Candidate's Copy को अपने साथ ले जाने की अनुमति है।
- प्रत्येक सही उत्तर पर 1 अंक प्राप्त होगा तथा प्रत्येक गलत उत्तर पर 0 अंक काटा जाएगा।



YOUR BRAND LOGO
HERE

YOUR INSTITUTE NAME

Address- Your coaching institute full address

Helpline :- 7737404085, 8209244090

- निम्नलिखित में से कौन भौतिकी में नोबेल पुरस्कार प्राप्त करने वाला पहला व्यक्ति था?
(a) हेंड्रिक एंटोन लोरेन्ज़ और पीटर ज़िमान (b) विल्हेम कॉनराड रॉन्टगन
(c) एंटोनी हेनरी बेकरेल (d) पियरे क्यूरी और मैरी क्यूरी
- भरहुत स्तूप निम्नलिखित में से किस राज्य में स्थित है?
(a) उत्तर प्रदेश (b) आंध्र प्रदेश
(c) हिमाचल प्रदेश (d) मध्य प्रदेश
- सोडियम को मिट्टी के तेल (केरोसिन तेल) में डूबा कर क्यों रखा जाता है?
(a) क्योंकि यह अत्यधिक अभिक्रियाशील है। (b) क्योंकि यह अत्यधिक ज्वलनशील है।
(c) क्योंकि यह कम (d) क्योंकि यह अत्यधिक अज्वलनशील है।
- जट-जटिन', 'झिझियन नृत्य' _____ के लोकप्रिय लोक नृत्य हैं।
(a) बिहार (b) मध्य प्रदेश
(c) उत्तर प्रदेश (d) गुजरात
- भारत सरकार अधिनियम, 1858 के बाद भारत किसकी अधीनता में आया?
(a) महारानी एलिजाबेथ द्वितीय (b) रानी एलेक्जेंड्रा
(c) महारानी एलिजाबेथ प्रथम (d) महारानी विक्टोरिया
- नाबार्ड (NABARD) की स्थापना _____ की सिफारिशों पर की गई थी।
(a) गाडगिल समिति (b) सी. रंगराजन समिति
(c) बी. शिवरामन समिति (d) एम. एल. धंतवाला समिति
- भारत में सर्वाधिक किस प्रकार की मिट्टी पाई जाती है?
(a) लाल मिट्टी (b) काली मिट्टी
(c) लेटराइट मिट्टी (d) जलोढ़ मिट्टी
- भारत में, राष्ट्रीय मतदाता दिवस _____ को मनाया जाता है।
(a) 26 मार्च (b) 24 फरवरी
(c) 27 दिसंबर (d) 25 जनवरी
- 57वां ज्ञानपीठ पुरस्कार से किसे सम्मानित किया गया है?
(a) अमिताव घोष (b) नीलमणि फूकन
(c) दामोदर मौजो (d) अक्वितम अच्युतन नंबूथिरी
- अगस्त 2023 में भारत ने कौन सा समुद्री निगरानी विमान श्रीलंका को सौंप दिया?
(a) इलुशिन II-38 (b) मिकोयान मिग-29K
(c) बोइंग P-8I नेच्यून (d) डोर्नियर-228
- निम्नलिखित धरोहर स्थलों में से किसमें वास्तुकला की द्रविड़ शैली है?
(a) हम्पी (b) एलोरा
(c) खजुराहो (d) कोणार्क
- 25°C फारेनहाइट स्केल पर कितने डिग्री के बराबर है?
(a) 75 (b) 87
(c) 80 (d) 77
- क्रिकेट विश्व कप, 1983 निम्नलिखित में से किस स्थान पर आयोजित किया गया था?
(a) इंग्लैंड (b) ऑस्ट्रेलिया
(c) वेस्ट इंडीज (d) भारत
- ओजोन सांद्रता को मापने के लिए _____ सबसे आम इकाई है।
(a) चैन (b) रॉड
(c) स्टैचूट माईल (d) डॉबसन इकाई
- राजा अशोक की पुत्री का नाम क्या था जिसे उन्होंने बौद्ध मिशनरी के कर्तव्यों को पूरा करने के लिए नियुक्त किया था?
(a) पद्मावती (b) चारुमती
(c) असंधिमित्रा (d) संघमित्रा
- भारतीय संविधान में निम्नलिखित में से कौन सा अनुच्छेद राष्ट्रपति को प्रधानमंत्री नियुक्त करने का अधिकार प्रदान करता है?
(a) अनुच्छेद 71 (b) अनुच्छेद 77
(c) अनुच्छेद 73 (d) अनुच्छेद 75
- भारत में दक्कन के लावा पथ में मुख्य रूप से किस प्रकार की मिट्टी पाई जाती है?
(a) जलोढ़ मिट्टी (b) लाल मिट्टी
(c) काली मिट्टी (d) लैटेराइट मिट्टी
- करक्युमिन नामक यौगिक जो विभिन्न प्रकार की जैविक गतिविधियों को दर्शाता है, कहां से निकाला जा सकता है?
(a) टमाटर से (b) अदरक के पौधा
(c) हल्दी के पौधे से (d) चंदन के पौधे से
- G20 टेकस्प्रींट 2023 का विजेता किसे घोषित किया गया है?
(a) भारतीय रिजर्व बैंक (b) टीम सेक्रेटेरियम लिमिटेड
(c) BIS (d) 1 और 3 दोनों
- मॉर्ले-मिटो सुधारों ने वायसराय को एक भारतीय सदस्य को अपनी कार्यकारी परिषद में नामित करने का अधिकार दिया। तो वायसराय की कार्यकारी परिषद में शामिल होने वाला पहले भारतीय कौन थे?
(a) सचिदानंद सिन्हा (b) सत्येंद्र प्रसाद सिन्हा
(c) बी. आर. अम्बेडकर (d) डॉ. राजेंद्र प्रसाद
- छह खिलाईने T1, T2, T3, T4, T5 और T6 (आवश्यक नहीं कि उसी क्रम में) एक वृत्ताकार पथ के चारों ओर अंदर की ओर मुख करके रखे गये हैं। T4, T6 के बाईं ओर से दूसरे स्थान पर है। T5, T2 के निकटतम बाएं स्थान पर है। T1, T3 के दाईं ओर से दूसरे स्थान पर है। T3, T4 के निकटतम दाईं ओर है।

यदि हम T5 के बाईं ओर खिलौनों की संख्या गिनना शुरू करते हैं, तो T6 और T5 के बीच कितने खिलौने रखे जाते हैं?

- (a) 1 (b) 3
(c) 2 (d) 0

22. कौन-से दो चिन्हों को एक-दूसरे से परिवर्तित करने पर समीकरण सही होगा?

$$19 + 63 \div 7 - 8 \times 12 = 79$$

- (a) \times और \div (b) $-$ और \times
(c) \div और $-$ (d) \times और $+$

23. अंकित को याद है कि उसका जन्मदिन 8 अगस्त के बाद है लेकिन 12 अगस्त से पहले है। उसकी मां को याद है कि उसका जन्मदिन 5 अगस्त के बाद है, लेकिन 10 अगस्त से पहले। अगस्त के किस दिन उसका जन्मदिन है?

- (a) 8 (b) 9
(c) 7 (d) 10

24. उस विकल्प आकृति का चयन करें जो दी गई आकृति में इसके भाग के रूप में सन्निकित है (रोटेशन की अनुमति नहीं है)।



(a)



(b)



(c)



(d)

25. एक निश्चित कोड भाषा में, 'FISHES' को '69198519', 'BODY' को '215425' के रूप में लिखा जाता है। उस कोड भाषा में 'LEAD' के लिए कोड क्या है?

- (a) 215412 (b) 121514
(c) 12511 (d) 12514

26. एक निश्चित कूट भाषा में, 'MISTER' को '925301' के रूप में, 'UNCLE' को '84670' के रूप में, और 'SEN' को '504' के रूप में कूटबद्ध किया गया है। उसी भाषा में 'MISTIC' को किस प्रकार कूटबद्ध किया जाएगा?

- (a) 936571 (b) 925326
(c) 876523 (d) 367829

27. दिए गये कथनों और निष्कर्षों को ध्यानपूर्वक पढ़िए। कथनों में दी गई जानकारी को सत्य मानकर, भले ही वे ज्ञात तथ्यों से अलग प्रतीत होते हों, निर्णय कीजिए कि दिए गये निष्कर्षों में से कौनसा निष्कर्ष कथनों का तार्किक रूप से अनुसरण करता है।
कथन:

I. सभी P, Q हैं।

II. कुछ Q, Z हैं।

III. कुछ Z, T हैं।

निष्कर्ष:

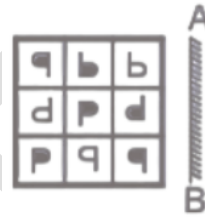
I. कुछ T, P हैं।

II. कुछ P, Z हैं।

III. कोई T, Z नहीं है।

- (a) एक भी निष्कर्ष अनुसरण नहीं करता है (b) केवल निष्कर्ष II अनुसरण करता है
(c) केवल निष्कर्ष I अनुसरण करता है (d) निष्कर्ष II और III दोनों अनुसरण करते हैं


28. यदि एक दर्पण को AB रेखा पर रखा जाए, तो दी गई उत्तर आकृतियों में से कौन सी आकृति प्रश्न आकृति की सही छवि होगी?



(a)



(b)



(c)



(d)

29. निम्नलिखित समीकरण में '?' के स्थान पर क्या आएगा, यदि '+' और '-' को परस्पर बदल दिया जाए और 'x' और '÷' को भी परस्पर बदल दिया जाए?

$$20 \times 5 - 10 + 5 \div 2 = ?$$

- (a) 6 (b) 2
(c) 4 (d) 8

30. निम्नलिखित में से कौन-सा अक्षर-समूह दी गई श्रृंखला में प्रश्नवाचक चिह्न (?) का स्थान लेगा?

HQMR, IRLQ, JSKP, KTJO, ?

- (a) LUIN (b) LUJO
(c) MUJN (d) MUIO

31. उस विकल्प का चयन कीजिए जो दिए गए शब्दों के उस सही क्रम को दर्शाता है जिसमें कि वे एक अंग्रेजी शब्दकोश में दिखाई देंगे।

- 1) Machine
2) Macabre
3) Machinery
4) Macaroni
5) Machete

- (a) 4, 1, 5, 2, 3 (b) 2, 5, 1, 3, 4
(c) 1, 2, 3, 4, 5 (d) 2, 4, 5, 1, 3

32. इस प्रश्न में, तीन कथनों के बाद दो निष्कर्ष I और II दिए गए हैं। आपको दिए गए कथनों को सत्य मानना है, भले ही वे सामान्य तथ्यों से भिन्न प्रतीत होते हों और फिर निर्धारित कीजिये कि दिए गए निष्कर्षों में से कौन सा निष्कर्ष सामान्य रूप से ज्ञात तथ्यों से भिन्न होते हुए भी दिए गए कथनों का तार्किक रूप से अनुसरण करता है।
कथन: कुछ फ्लैट्स अपार्टमेंट्स हैं।
कोई अपार्टमेंट हॉल नहीं है।
कुछ हॉल कमरे हैं।
निष्कर्ष:

I). कम से कम कुछ कमरे फ्लैट हैं।
II) कोई अपार्टमेंट कमरा नहीं है।

- (a) केवल निष्कर्ष I सत्य है (b) केवल निष्कर्ष II सत्य है
(c) निष्कर्ष I और II दोनों सत्य हैं (d) न तो निष्कर्ष I और न ही II सत्य है

33. दी गई उत्तर आकृतियों में से, उस उत्तर आकृति का चयन कीजिए, जिसमें प्रश्न आकृति छिपी/निहित है।



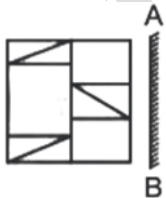
34. कौओं की एक पंक्ति में A बायें से 10वां है और B दायें से 9वां है। अपनी जगह आपस में बदलने पर A बायें से 15वां हो जाता है। पंक्ति में कितने कौए हैं?

- (a) 31 (b) 19
(c) 23 (d) 28

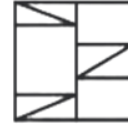
35. दिए गए विकल्पों में से संबंधित शब्द को चुनिए।
चतुर्भुज : चार :: षट्भुज : ?

- (a) छह (b) चार
(c) तीन (d) पाँच

36. यदि रेखा AB पर एक दर्पण रखा जाए, तो दी गई उत्तर आकृतियों में से कौन-सी आकृति दी गई आकृति का सही प्रतिबिम्ब है?



- (a) (b)



- (c) (d)

37. निम्नलिखित प्रश्न में, चार संख्या समूह दिए गए हैं। प्रत्येक समूह में तीन संख्याएँ किसी न किसी तर्क/नियम/सम्बन्ध द्वारा एक दूसरे से सम्बन्धित हैं। तीन समान तर्क/नियम/सम्बन्ध के आधार पर समान हैं। दिए गए विकल्पों में से विषम का चयन कीजिए।

- (a) (12, 24, 41) (b) (13, 26, 43)
(c) (16, 32, 49) (d) (17, 34, 53)

38. निम्नलिखित प्रश्न में दिए गए विकल्पों में से संबंधित अक्षर/अक्षरों को चुनिए।

GREAT : TERAG :: STONE : ?

- (a) GONTS (b) EOTNS
(c) ENOTS (d) ETONS

39. निम्न जानकारी को पढ़ें और फिर इसके आधार पर प्रश्न का उत्तर दीजिए।

- 1) 'A + B' से अर्थ है कि 'A, B की मां है।
2) 'A - B' से अर्थ है कि 'A, B की बहन है।
3) 'A * B' से अर्थ है कि 'A, B का पिता है।
4) 'A β B' से अर्थ है कि 'A, B का भाई है।

निम्न में से किस का तात्पर्य है कि D, A के परनाना हैं?

- (a) $D * C + B + A$ (b) $D * C \beta B - A$
(c) $D * C + B - A$ (d) $D * C \beta B + A$

40. निम्नलिखित में कौन-सा विकल्प अन्य से भिन्न है?

- (a) वाष्प (b) धुंध
(c) ओलावृष्टि (d) कोहरा

41. रिवर राफ्टिंग के लिए अंकित मनाली गया था। वह स्थिर जल में 12 किमी/घंटा की गति से नाव चलाता है। समान दूरी को तय करने में उसे धारा के अनुकूल नाव चलाने की तुलना में धारा के प्रतिकूल नाव चलाने में दोगुना समय लगता है। नदी की धारा की गति ज्ञात कीजिए।

- (a) 6 किमी/घंटा (b) 4 किमी/घंटा
(c) 8 किमी/घंटा (d) 2 किमी/घंटा

42. एक डीलर सभी गुड़ियों पर 20% की छूट देता है। वह उन ग्राहकों, जो नकद में भुगतान करते हैं, को घटे हुए मूल्य पर 5% की अतिरिक्त छूट प्रदान करता है। 1,800 रुपये की गुड़िया के लिए ग्राहक नकद में कितना भुगतान करेगा?

- (a) 800 रुपये (b) 1,368 रुपये
(c) 1,225 रुपये (d) 1,532 रुपये

43. विनय एक वस्तु को 20 प्रतिशत के लाभ पर बेचता है। यदि क्रय मूल्य और विक्रय मूल्य दोनों 20 रुपये कम हो जाते हैं, तो लाभ 40 प्रतिशत हो जाता है। प्रारंभिक क्रय मूल्य क्या है?

- (a) 80 रुपये (b) 60 रुपये
(c) 50 रुपये (d) 40 रुपये

44. यदि $\frac{3}{2} \times \frac{7}{3} \div \frac{7}{6} + \frac{1}{4} = \frac{1}{x}$ है, तो x का मान क्या है?

- (a) 7/12 (b) 4/13
(c) 13/4 (d) 6/7

45. एक वस्तु को 40 प्रतिशत और 20 प्रतिशत की दो क्रमिक छूट देने के बाद 4632 रुपये में बेचा जाता है। वस्तु का अंकित मूल्य क्या है?

- (a) 7650 रुपये (b) 8870 रुपये
(c) 9650 रुपये (d) 8050 रुपये

46. 17 से 457 तक ऐसी कितनी संख्याएँ हैं जो 5 और 3 दोनों से विभाज्य हैं?

- (a) 29 (b) 35
(c) 30 (d) 33

47. पारस अपना माल 960 रुपये में 33.33% लाभ पर बेचता है। 20% का लाभ अर्जित करने के लिए उसे अपने माल को किस मूल्य पर बेचना चाहिए?

- (a) 792 रुपये (b) 720 रुपये
(c) 854 रुपये (d) 864 रुपये

48. A अकेले एक मेज को 30 दिनों में बना सकता है जबकि B अकेले इसे 15 दिनों में बना सकता है। B ने अकेले कार्य प्रारम्भ किया और 8 दिनों तक कार्य किया। शेष कार्य को A अकेले कितने दिनों में पूर्ण कर सकता है?

- (a) 14 दिन (b) 10 दिन
(c) 12 दिन (d) 15 दिन

49. एक नाव धारा के प्रतिकूल 9 घंटे में 36 किमी और समान दूरी को धारा के अनुकूल 3 घंटे में तय करती है। स्थिर जल में नाव की गति कितनी है?

- (a) 8 किमी/घंटा (b) 14 किमी/घंटा
(c) 10 किमी/घंटा (d) 6 किमी/घंटा

50. एक आयताकार फर्श की चौड़ाई उसकी लंबाई की $\frac{3}{5}$ है। यदि फर्श का क्षेत्रफल 60 मीटर² है, तो फर्श की लंबाई और चौड़ाई में कितना अंतर है?

- (a) 6 मीटर (b) 7.5 मीटर
(c) 5 मीटर (d) 4 मीटर

51. 27 और 300 का मध्यानुपाती ज्ञात कीजिए।

- (a) 90 (b) 45
(c) 135 (d) 180

52. स्टॉपेज सहित एक ट्रेन की गति 75 किमी प्रति घंटा है और स्टॉपेज को छोड़कर ट्रेन की गति 90 किमी प्रति घंटा है। ट्रेन प्रति घंटे कितने मिनट रुकती है?

- (a) 10 मिनट (b) 15 मिनट
(c) 20 मिनट (d) 11 मिनट

53. 47 मीटर/सेकंड की गति से चलने वाली ट्रेन एक सिग्नल को 13 सेकंड में पार करती है। ट्रेन की लम्बाई (मीटर में) ज्ञात कीजिए।

- (a) 611 (b) 609
(c) 613 (d) 615

54. एक त्रिभुज के आधार की लंबाई 10 सेमी है और उसी आधार से उसकी ऊँचाई 8 सेमी है। त्रिभुज का क्षेत्रफल कितना है?

- (a) 30 सेमी² (b) 40 सेमी²
(c) 50 सेमी² (d) 80 सेमी²

55. अल्फा और बीटा का आयु से अनुपात 2 : 5 है। यदि उनकी आयु का योग 238 है, तो उनकी आयु के बीच का अंतर ज्ञात कीजिए।

- (a) 102 (b) 100
(c) 98 (d) 96

56. 2,700 रुपये पर 8 महीने के लिए 5 पैसे प्रति रुपये प्रति माह की दर से साधारण ब्याज ज्ञात कीजिए।

- (a) ₹950 (b) ₹720
(c) ₹540 (d) ₹1,080

57. यदि दो संख्याओं के बीच का अंतर उनके योग का 20 प्रतिशत है, तो बड़ी संख्या और छोटी संख्या का अनुपात क्या है?

- (a) 6 : 5 (b) 5 : 4
(c) 4 : 3 (d) 3 : 2

58. धातु के टुकड़े का मूल्य 365 रुपये से बढ़कर 438 रुपये हो गया है। प्रतिशत वृद्धि (% में) ज्ञात कीजिए।

- (a) 30 (b) 15
(c) 25 (d) 20

59. पहले और दूसरे बेलन के आयतन का अनुपात 32 : 9 है और उनकी ऊँचाइयों का अनुपात 8 : 9 है। यदि दूसरे बेलन के आधार का क्षेत्रफल 616 सेमी² है, तो पहले बेलन की त्रिज्या कितनी होगी?

- (a) 24 सेमी (b) 20 सेमी
(c) 28 सेमी (d) 36 सेमी

60. यदि $p + q = 7$ और $p^2 + q^2 = 25$ है, तो pq का मान ज्ञात कीजिए।

- (a) 24 (b) 12
(c) 18 (d) 36

61. निम्नलिखित में से अशुद्ध वर्तनी कौन-सी है ?

- (a) आँगन (b) मुश्किल
(c) पच्चीस (d) ईर्ष्या

62. रिक्त स्थान को भरने के लिए उपयुक्त शब्द का चयन करें। जिसके पास _____ है, वह किसी भी परिस्थिति का सामना कर सकता है।

- (a) धान्य (b) धैर्य
(c) धनुष (d) धनु

63. 'क्षणिक क्रोध जीवन नष्ट कर देता है' वाक्य में कौन-सा विशेषण है?

- (a) परिमाणवाचक (b) संख्यावाचक
(c) गुणवाचक (d) संकेतवाचक
64. निम्नलिखित प्रश्न में, दिए गए चार विकल्पों में से, उस विकल्प का चयन करें जो दिए गए मुहावरे के अर्थ को सर्वश्रेष्ठ रूप से व्यक्त करता है।
ओठ बिचकाना
(a) प्रेमपूर्वक स्वागत करना (b) खतरे का काम करना
(c) घृणा प्रकट करना (d) क्रोध को और बढ़ाना
65. रिक्त स्थान को भरने के लिए उपयुक्त शब्द का चयन करें।
_____ हमें उत्तम अवसर प्रदान करती है।
(a) चुनौतियाँ (b) विशेषताएँ
(c) मनौतियाँ (d) नीरवता
66. (QUES : 66 – 70) सालाना इम्तिहान हुआ। भाई साहब फ़ैल हो गए, मैं पास हो गया और दरजे में प्रथम आया। मेरे और उनके बीच में केवल दो साल का अंतर रह गया। जी में आया, भाई साहब को आड़े हाथों लूँ-आपकी वह घोर तपस्या कहाँ गई ? मुझे देखिए, मज़े से खेलता भी रहा और दरजे में अब्बल भी हूँ।' लेकिन वह इतने दुखी और1..... थे कि मुझे उनसे दिली हमदर्दी हुई और उनके घाव पर नमक छिड़कने का विचार ही2..... जान पड़ा। हाँ, अब मुझे अपने ऊपर कुछ अभिमान हुआ और आत्मसम्मान भी बढ़ा। भाई साहब का वह रौब मुझ पर न रहा। आज्ञादी से खेलकूद में शरीक होने लगा। दिल मज़बूत था। अगर उन्होंने फिर मेरी3..... की, तो साफ़ कह दूँगा-'आपने अपना खून जलाकर कौन-सा तीर मार लिया। मैं तो खेलते-कूदते दरजे में अब्बल आ गया।' ज़बान से यह हेकड़ी जताने का साहस न होने पर भी मेरे रंग-ढंग से साफ़ ज़ाहिर होता था कि भाई साहब का वह आतंक मुझ पर नहीं था। भाई साहब ने इसे भाँप लिया- उनकी सहज बुद्धि बढ़ी4..... थी और एक दिन जब मैं भोर का सारा समय गुल्ली-डंडे की भेंट करके ठीक भोजन के समय लौटा, तो भाई साहब ने मानो तलवार खींच ली और मुझ पर टूट पड़े-देखता हूँ, इस साल पास हो गए और दरजे में अब्बल आ गए, तो तुम्हें दिमाग हो गया है, मगर भाईजान, घमंड तो बड़े-बड़े का नहीं रहा, तुम्हारी क्या हस्ती है ?5..... में रावण का हाल तो पढ़ा ही होगा। उसके चरित्र से तुमने कौन-सा उपदेश लिया? या यों ही पढ़ गए ?
रिक्त स्थान (1) की पूर्ति के लिए उचित विकल्प का चयन करें।
(a) उदास (b) भयभीत
(c) शांत (d) निर्बल
67. रिक्त स्थान (2) की पूर्ति के लिए उचित विकल्प का चयन करें।
(a) विचारशील (b) लज्जास्पद
(c) करुणामय (d) घ्रणित
68. रिक्त स्थान (3) की पूर्ति के लिए उचित विकल्प का चयन करें।
(a) नसीहत (b) हिफाजत
(c) फ़ज़ीहत (d) बदनीयत
69. रिक्त स्थान (4) की पूर्ति के लिए उचित विकल्प का चयन करें।
(a) सहज (b) मंद
(c) असहाय (d) तीव्र
70. रिक्त स्थान (5) की पूर्ति के लिए उचित विकल्प का चयन करें।
(a) इतिहास (b) भविष्य
(c) वेदों (d) शास्त्र
71. मोर' के लिए पर्यायवाची शब्द नहीं है-
(a) ध्वजी (b) शिखी
(c) कनक (d) नीलकंठ
72. वर्तनी के आधार पर दिए गए वाक्य के किस अंश में अशुद्धि है -
उसकी करुण कहानी सुनकर मैं द्रविभूत हो गया।
(a) हो गया। (b) उसकी करुण
(c) कहानी सुनकर (d) मैं द्रविभूत
73. 'फेंक कर चलाया जाने वाला हथियार' - इसके लिए निम्नलिखित में से सही शब्द का चयन कीजिए।
(a) शस्त्र (b) अस्त्र
(c) मारना (d) त्रिशूल
74. इन प्रश्नों में दिए गए मुहावरे का सही अर्थ दिए गए विकल्पों में से चुनिए।
हाथ - पाँव फूल जाना
(a) थक जाना (b) घबरा जाना
(c) चलते जाना (d) कड़ी मेहनत करना
75. सलावण्य' शब्द का तद्भव रूप कौन-सा है?
(a) लवण (b) लावण्या
(c) सलोना (d) सललित
76. दिए गये वाक्य का वह भाग ज्ञात करें जिसमें कोई त्रुटि है। यदि कोई त्रुटि नहीं है, तो 'कोई त्रुटि नहीं है' चुनें।
वे परस्पर(1)/ एक-दूसरे को(2)/ पीट रहे थे।(3)/ कोई त्रुटि नहीं है(4)
(a) 1 (b) 2
(c) 3 (d) 4
77. कर्पट' का तद्भव रूप है-
(a) कपट (b) कारपेट
(c) कपूर (d) कपड़ा
78. अनेकार्थी शब्द 'अक्षर' का इनमें से एक अर्थ नहीं है
(a) अविनाशी (b) मोक्ष
(c) वर्ण (d) अंक
79. निर्भय' का विलोम क्या होगा?
(a) दुर्भय (b) अभय
(c) भयरहित (d) सभय
80. (1) उसकी जरूरत उसके घर में कितनी है। (2) अपने घर में रहना नहीं चाहता था। (3) अब उस व्यक्ति को (4) अब वह एक पल भी (5) समझ में आ गया था कि

वाक्य को उचित क्रम में व्यवस्थित कीजिये।

- (a) 3,5,4,1,2 (b) 3,2,5,1,4
(c) 3,5,2,1,4 (d) 3,5,1,4,2

81. Directions: Each item in this section consists of a sentence with an underlined word(s) followed by four words/group of words. Select the option that is nearest in meaning to the underlined word and mark your response accordingly.

The regime built a series of major citadels and minor forts at immense cost.

- (a) fortress (b) flank
(c) baffle (d) decrepit

82. Choose the option that is closest in meaning to the underlined idiom.

He was a friend, but soon he showed his true colours.

- (a) to guide a friend (b) to reveal one's true nature
(c) to reach out and help (d) to show one's friendship

83. Direction: Read the sentence carefully and choose the option that has an error in it:

Deepa and Rani love chocolates but their brothers does not like them.

- (a) Deepa and Rani love chocolates (b) but their brothers does not like them.
(c) does not like them. (d) No error

84. DIRECTIONS: Find the word which can be replaced for the given sentence.

The animals of a certain region.

- (a) Fauna (b) Ferocious
(c) Tame (d) Wild

85. Direction: Choose the right tag to complete the given sentence:

Don't keep arguing with me for everything, _____

- (a) will you? (b) would you?
(c) don't you? (d) should you?

86. Select the option that can be used as a one-word substitute for the given group of words.

A funeral procession

- (a) Constellation (b) Cortege
(c) Claque (d) Congregation

87. Find out the antonym of the underlined word in the given sentence.

No one likes to cultivate in a barren land.

- (a) desperate (b) parched
(c) desolate (d) fertile

88. Select the word which is correctly spelt:

- (a) Ludicuruous (b) Ludicorus
(c) Ludicrous (d) Ludicuroous

89. Fill in the blank with the most appropriate word. He deals _____ with everyone so people trust him.

- (a) slyly (b) deeply
(c) fairly (d) poorly

90. Select the most appropriate meaning of the given idiom.

An eye wash

- (a) In writing (b) A pretence
(c) Avoid talking (d) A rare event

91. Select the most appropriate SYNONYM of the given word.

SOLEMN

- (a) splendid (b) informal
(c) frivolous (d) serious

92. Select the most appropriate option to substitute the underlined segment in the given sentence. Suman and his friend often coming here to read books.

- (a) often have been coming here (b) are often coming here
(c) often are coming here (d) often come here

93. The following sentence has been split into four segments. Identify the segment that contains a grammatical error.

I respect/ him so/ he is/ my trainer.

- (a) I respect (b) him so
(c) he is (d) my trainer.

94. In the given question, four words are given out of which one word is correctly spelt. Choose the correctly spelt word.

- (a) Bayyonet (b) Baionnet
(c) Bayonnet (d) Bayonet

95. Select the most appropriate option to substitute the underlined segment in the given sentence. If there is no need to substitute it, select 'No substitution required'.

I am trying my best to give in junk food.

- (a) give up (b) give back
(c) No substitution required (d) give out

96. Direction: Some words have been left out in the following passage. Read the passage carefully and choose the correct answer for the given blank out of the four alternatives:

Dogs have [1] _____ unique relationship with man's evolutionary history — one of

companionship. This poses a moral dilemma of being responsible for their welfare but also confronting the vagaries of their evolution from wolves and their territorial instincts. While by no means a conundrum unique to India, much of the world has drawn the line by de-recognising the rights of stray animals: if leashed and registered, human custodians are [2] _____ to take care of them. If not, the state — as a last resort — is encumbered to euthanise them, in the interest of public health. The Prevention of Cruelty to Animals (PCA) Act and the Animal Birth Control (Dogs) Rules, 2001 (being updated), while aimed [3] _____ limiting the stray population, do nothing to improve public safety. The [4] _____ draft rules, or the Animal Birth Control Rules, 2022, only put forth procedural changes in sterilisation and vaccination, permit only “incurably ill and mortally wounded” dogs to be euthanised, which is what existing rules permit, and make leaders of resident welfare associations responsible for feeding strays [5] _____ pockets. The PCA and ABC rules acknowledge that unchecked strays must be restrained.

- (a) more (b) most
(c) a (d) an

97. Direction: Some words have been left out in the following passage. Read the passage carefully and choose the correct answer for the given blank out of the four alternatives:

Dogs have [1] _____ unique relationship with man’s evolutionary history — one of companionship. This poses a moral dilemma of being responsible for their welfare but also confronting the vagaries of their evolution from wolves and their territorial instincts. While by no means a conundrum unique to India, much of the world has drawn the line by de-recognising the rights of stray animals: if leashed and registered, human custodians are [2] _____ to take care of them. If not, the state — as a last resort — is encumbered to euthanise them, in the interest of public health. The Prevention of Cruelty to Animals (PCA) Act and the Animal Birth Control (Dogs) Rules, 2001 (being updated), while aimed [3] _____ limiting the stray population, do nothing to improve public safety. The [4] _____ draft rules, or the Animal Birth Control Rules, 2022, only put forth procedural changes in sterilisation and vaccination, permit only “incurably ill and mortally wounded” dogs to be euthanised, which is what existing rules permit, and make leaders of resident welfare associations responsible for feeding strays [5] _____ pockets. The PCA and ABC rules acknowledge that unchecked strays must be restrained.

- (a) obliged (b) staged

- (c) waged (d) appreciated

98. Direction: Some words have been left out in the following passage. Read the passage carefully and choose the correct answer for the given blank out of the four alternatives:

Dogs have [1] _____ unique relationship with man’s evolutionary history — one of companionship. This poses a moral dilemma of being responsible for their welfare but also confronting the vagaries of their evolution from wolves and their territorial instincts. While by no means a conundrum unique to India, much of the world has drawn the line by de-recognising the rights of stray animals: if leashed and registered, human custodians are [2] _____ to take care of them. If not, the state — as a last resort — is encumbered to euthanise them, in the interest of public health. The Prevention of Cruelty to Animals (PCA) Act and the Animal Birth Control (Dogs) Rules, 2001 (being updated), while aimed [3] _____ limiting the stray population, do nothing to improve public safety. The [4] _____ draft rules, or the Animal Birth Control Rules, 2022, only put forth procedural changes in sterilisation and vaccination, permit only “incurably ill and mortally wounded” dogs to be euthanised, which is what existing rules permit, and make leaders of resident welfare associations responsible for feeding strays [5] _____ pockets. The PCA and ABC rules acknowledge that unchecked strays must be restrained.

- (a) on (b) in
(c) at (d) upon

99. Direction: Some words have been left out in the following passage. Read the passage carefully and choose the correct answer for the given blank out of the four alternatives:

Dogs have [1] _____ unique relationship with man’s evolutionary history — one of companionship. This poses a moral dilemma of being responsible for their welfare but also confronting the vagaries of their evolution from wolves and their territorial instincts. While by no means a conundrum unique to India, much of the world has drawn the line by de-recognising the rights of stray animals: if leashed and registered, human custodians are [2] _____ to take care of them. If not, the state — as a last resort — is encumbered to euthanise them, in the interest of public health. The Prevention of Cruelty to Animals (PCA) Act and the Animal Birth Control (Dogs) Rules, 2001 (being updated), while aimed [3] _____ limiting the stray population, do nothing to improve public safety. The [4] _____ draft rules, or the Animal Birth Control Rules, 2022, only put forth procedural changes in

sterilisation and vaccination, permit only "incurably ill and mortally wounded" dogs to be euthanised, which is what existing rules permit, and make leaders of resident welfare associations responsible for feeding strays [5] _____ pockets. The PCA and ABC rules acknowledge that unchecked strays must be restrained.

- (a) proposed (b) proposing
(c) proposes (d) propose
100. Direction: Some words have been left out in the following passage. Read the passage carefully and choose the correct answer for the given blank out of the four alternatives:
Dogs have [1] _____ unique relationship with man's evolutionary history — one of companionship. This poses a moral dilemma of being responsible for their welfare but also confronting the vagaries of their evolution from wolves and their territorial instincts. While by no means a conundrum unique to India, much of the world has drawn the line by de-recognising the rights of stray animals: if leashed and registered, human custodians are [2] _____ to take care of them. If not, the state — as a last resort — is encumbered to euthanise them, in the interest of public health. The Prevention of Cruelty to Animals (PCA) Act and the Animal Birth Control (Dogs) Rules, 2001 (being updated), while aimed [3] _____ limiting the stray population, do nothing to improve public safety. The [4] _____ draft rules, or the Animal Birth Control Rules, 2022, only put forth procedural changes in sterilisation and vaccination, permit only "incurably ill and mortally wounded" dogs to be euthanised, which is what existing rules permit, and make leaders of resident welfare associations responsible for feeding strays [5] _____ pockets. The PCA and ABC rules acknowledge that unchecked strays must be restrained.
- (a) in (b) on
(c) at (d) to
101. हरियाणा में यौधेय गण के सिक्के सबसे पहले किस शताब्दी में मिले थे?
(a) 17वां (b) 18वां
(c) 19वां (d) 20वां
102. औरंगजेब के शासनकाल के दौरान जाटों को संगठित करने का श्रेय किसे दिया जाता है?
(a) राजाराम (b) वीर गोकुला
(c) चूड़ामन (d) हरदयाल जाट
103. हरियाणा में मार्ले-मिंटो सुधारों के प्रतिरोध का मुख्य केंद्र कौन सा क्षेत्र था?
(a) पानीपत (b) अंबाला
(c) हिसार (d) कुरुक्षेत्र

104. हल्की दोमट मिट्टी मुख्यतः हरियाणा के किस भाग में पाई जाती है?
(a) दक्षिण-पश्चिम अंबाला (b) नारायणगढ़ तहसील
(c) ए' और 'बी' दोनों (d) उत्तर-पूर्व अंबाला
105. मिलान सूची I (झील) सूची II (स्थान)
A. डबचिक झील 1. पलवल
B. अनंगपुर झील 2. फरीदाबाद
C. ब्लू बर्ड झील 3. हिसार
D. उजिना (संगेल) झील 4. नूह (मेवात)
कोड ABCDABCD
(a) 1 2 3 4 (b) 2 3 4 1
(c) 3 4 1 2 (d) 4 1 2 3
106. हरियाणा राज्य में सर्वाधिक क्षेत्र में किस फूल की खेती की जाती है?
(a) गुलाब (b) गेंदा
(c) रजनीगंधा (d) ग्लेडियोलस
107. प्रतापगढ़ फार्म कहाँ स्थित है?
(a) झज्जर (b) हिसार
(c) करनाल (d) फतेहाबाद
108. हरियाणा नवीकरणीय ऊर्जा विकास प्राधिकरण की स्थापना कब हुई थी?
(a) वर्ष 1977 (b) वर्ष 1978
(c) वर्ष 1980 (d) वर्ष 1985
109. केंद्र सरकार द्वारा चंडीगढ़ हवाई अड्डे से अंतरराष्ट्रीय उड़ानों के लिए विमानन कंपनियों को कब अनुमति दी गई थी?
(a) जून 2013 (b) जून 2014
(c) अप्रैल 2012 (d) मई 2014
110. हरियाणा के किस राज्यपाल का कार्यकाल सबसे कम (केवल 5 दिन) है?
(a) श्री महावीर प्रसाद (b) श्री बाबू परमानंद
(c) श्री ओमप्रकाश वर्मा (d) श्री कप्तान सिंह सोलंकी
111. धारा 32 के तहत हरियाणा पंचायती राज अधिनियम, 1947 के तहत राज्यपाल कितने वर्षों के लिए राज्य वित्त आयोग का गठन करते हैं?
(a) 3 साल (b) 4 साल
(c) 5 साल (d) 6 साल
112. देश की पहली चलने वाली सशुल्क टैक्सी सेवा मेट्रोनों कहाँ शुरू की गई थी?
(a) रेवाड़ी (b) गुरुग्राम
(c) झज्जर (d) महेंद्रगढ़
113. हरियाणा का कौन सा त्यौहार सिख समुदाय द्वारा विशेष रूप से मनाया जाता है?
(a) शिव चौदस (b) होला मोह
(c) लोहड़ी (d) दुर्गा अष्टमी

114. भुजनी आभूषण हरियाणा की महिलाओं द्वारा अपने में पहना जाता है।

- (a) कान (b) गर्दन
(c) नाक (d) हाथ

115. हरियाणा में आधुनिक एवं पूर्व नियोजित तरीके से बनाया गया पहला शहर था

- (a) करनाल (b) अंबाला
(c) भिवानी (d) पानीपत

116. नारनौल में एक महल बनवाया, जो मुगल बादशाह शाहजहाँ का दीवान था।

- (a) बीरबल (b) राय मुकुंद दास
(c) राय माधव दास (d) उपरोक्त में से कोई नहीं

117. संस्कृत खण्डकाव्य/गीतिकाव्य का मिलान करें तथा हरियाणा सूची I (लेखक) सूची II (खण्डकाव्य/गीतिकाव्य) के रचयिता

- A. हंसराज नागर 1. सांख्य सुधाकर
B. वनमालिदास शास्त्री 2. विज्ञान गीतम
C. श्री लक्ष्मण सिंह अग्रवाल 3. सरस्वती वंदना
D. डॉ शंकरलाल सारस्वत 4. युग भारती संहिता एबीसीडीएबीसीडी

- (a) 2 3 4 1 (b) 3 1 2 4
(c) 1 2 4 3 (d) 4 3 2 1

118. किस प्रसिद्ध व्यक्ति का संबंध रोहतक के मोखरा गांव से है?

- (a) कल्पना चावला (b) बाबा रामदेव
(c) साक्षी मलिक (d) इनमें से कोई नहीं

119. अंगपाल द्वितीय किसके निर्माण कार्य से सम्बंधित है?

- (a) लौह स्तंभ (b) अंगताल सरोवर
(c) सूरजकुंड (d) उपरोक्त सभी

120. आपकी बेटी-हमारी बेटी' योजना किस मंत्रालय से संबंधित है?

- (a) महिला एवं बाल विकास (b) सांस्कृतिक कार्य
(c) पंचायत और विकास (d) परिवार और स्वास्थ्य

121. प्रतिभाशाली बच्चे होते हैं

- (a) अपनी जरूरतों से गैर-मुखर (b) अपने निर्णयों में स्वतंत्र
(c) शिक्षकों से स्वतंत्र (d) इनमें से कोई भी नहीं

122. निम्नलिखित में से कौन सा फ्रायड द्वारा प्रस्तावित व्यक्तित्व का संरचनात्मक तत्व नहीं है?

- (a) इदम (b) पराहम
(c) अहम (d) इनमें से कोई भी नहीं

123. कक्षा प्रबंधन शिक्षकों की एक महत्वपूर्ण जिम्मेदारी है जिसमें तीन बुनियादी कार्य होते हैं, जो _____ हैं।

- (a) नियोजन, प्रबंधन और प्रदर्शन (b) पाठ्यचर्या, प्रारूपण और निष्पादन
(c) नियोजन, नियंत्रण और संचार (d) नियंत्रण, प्रबंधन और प्रदर्शन

124. अभिकथन (A) : बच्चे व्यवहार के तरीके और अपने परिवार में रहन-सहन के मूल्यों और मानदंडों को सीखते हैं।
कारण (R) : परिवार बच्चों के समाजीकरण की द्वितीयक संस्था है।
सही विकल्प चुनिए।

- (a) (A) और (R) दोनों सत्य हैं और (R) (A) की सही व्याख्या है। (b) (A) और (R) दोनों सही हैं लेकिन (R) (A) की सही व्याख्या नहीं है।
(c) (A) सत्य है लेकिन (R) असत्य है। (d) (A) और (R) दोनों असत्य हैं।

125. सी.जी. जुंग ने _____ परीक्षण के आधार पर व्यक्तित्व को अन्य प्रकारों अंतर्मुखी, बहिर्मुखी और उभयमुखी में विभाजित किया है।

- (a) शब्द साहचर्य परीक्षण (b) प्रसंगात्मक बोध परीक्षण
(c) परिस्थितिजन्य परीक्षण (d) स्थायी धब्बा परीक्षण

126. IQ = मानसिक आयु (MA)/कालानुक्रमिक आयु (CA) × 100 यह सूत्र किसके द्वारा प्रतिपादित किया गया?

- (a) संशोधित स्टैनफोर्ड-बिने स्केल (b) मिनेसोटा पेपर फॉर्म बोर्ड टेस्ट
(c) बिने-साइमन (d) इनमें से कोई भी नहीं

127. शिक्षक द्वारा निर्भाई गई महत्वपूर्ण भूमिका क्या है

- I. शिक्षार्थी के पर्यवेक्षक और निदानकर्ता
II. अधिगम के लिए पर्यावरण प्रदाता
III. अधिगम का सूत्रधार

- (a) केवल I (b) I और II
(c) II और III (d) I, II, और III

128. क्रियाप्रसूत अनुकूलन' सिद्धांत _____ द्वारा प्रतिपादित किया गया था।

- (a) पावलोव (b) स्किनर
(c) थार्नडाइक (d) कोहलर

129. एक विशिष्ट प्रकार की अधिगम अक्षमता जिसमें शब्दों, वाक्यों और कहानियों को बनाने वाले ध्वनि समूहों से अर्थ जोड़ने में कठिनाई होती है, _____ के रूप में जानी जाती है।

- (a) डिस्लेक्सिया (b) भाषा प्रसंस्करण विकार
(c) अशाब्दिक अधिगम अक्षमता (d) दृश्य पेशीय न्यूनता

130. शिक्षण अधिगम सामग्री को _____ के अनुसार चुना जाना चाहिए।

- (a) संबंधित क्षेत्रों में उनकी उपलब्धता (b) शिक्षण के उद्देश्य
(c) उनकी लागत (d) इनमें से कोई भी नहीं

131. निम्नलिखित में से कौन-सा एक 'समावेशन' का सबसे अच्छा वर्णन करता है?

- (a) यह एक विश्वास है कि कुछ बच्चे कभी कुछ सीख ही नहीं सकते। (b) यह एक दर्शन है कि सभी बच्चों को नियमित विद्यालय प्रणाली में समान शिक्षा प्राप्त करने का अधिकार है।

- (c) यह एक दर्शन है कि विशेष बच्चे 'ईश्वर के विशेष उपहार' हैं। (d) यह एक विश्वास है कि बच्चों को अपनी योग्यताओं के अनुसार अलग किया जाना चाहिए।
132. निम्न में से कौन-सी सुविधाहीन और वंचित पृष्ठभूमि के शिक्षार्थियों को संबोधित करने के लिए एक प्रभावी रणनीति नहीं है?
- (a) विद्यालय में पाठ्य पुस्तकों में सांस्कृतिक विषयवस्तु को सावधानीपूर्वक वर्गीकृत किया जाना चाहिए। (b) शिक्षण-अधिगम की विविध विधियों का समावेश होना चाहिए। (c) उनके कौशल का परीक्षण करने के लिए निर्धारित समय दिया जाना चाहिए। (d) वंचित शिक्षार्थियों की भाषा और बोली के माध्यम से पढ़ाना चाहिए।
133. बच्चों को समस्या हल करने हेतु प्रभावी बनाने के लिए, इनमें से किसे शिक्षक द्वारा नहीं अपनाया जाना चाहिए?
- (a) उन्हें अच्छे कार्यों के लिए पुरस्कार देना। (b) विभिन्न भाषा कौशल विकसित करके। (c) उन्हें तेजी से रट लेने के लिए विकसित करके। (d) छात्रों के अवगुणों को स्वीकार करने के लिए सक्षम बनाके।
134. शिक्षा का मुख्य उद्देश्य है-
- (a) भाषा कौशल का विकास। (b) सामाजिक नागरिकता का विकास। (c) व्यक्तित्व का विकास। (d) दण्ड।
135. निम्नलिखित में से कौन प्रभावी शिक्षण का गुण नहीं है?
- (a) लोकतंत्रवादी। (b) सहानुभूतिपूर्ण। (c) एकतंत्रीय। (d) वांछनीय सूचना प्रदाता।
136. निम्नलिखित में से कौन सी भूमिका निर्वहन गतिविधि की शक्ति नहीं है?
- (a) आजीवन सीखने को बढ़ावा देता है। (b) सहानुभूतिपूर्ण समझ विकसित करता है। (c) तत्काल प्रतिक्रिया प्रदान करता है। (d) रटने की शिक्षा को बढ़ावा देता है।
137. पियाजे के विकास के सिद्धांत में चौथे चरण को कहा जाता है
- (a) मूर्त संक्रियात्मक अवस्था। (b) अमूर्त संक्रियात्मक अवस्था। (c) पूर्व-संक्रियात्मक अवस्था। (d) संवेदीप्रेरक अवस्था।
138. श्रवण बाधित बच्चे प्रदर्शन करते हैं:
- (a) भाषा द्वारा संचार में बाधाएं। (b) चारों ओर जाने में बाधाएं। (c) व्यक्तियों को स्व-देखभाल। (d) स्पर्श कौशल में बाधाएं।
139. निम्नलिखित में से कौन व्यक्तित्व का निर्धारक नहीं है?
- (a) आनुवंशिकता। (b) पर्यावरण। (c) स्थिति। (d) संचार।
140. जब शिशु आंख, कान और हाथों से सोचते हैं, तो वे निम्नलिखित में से किस अवस्था में होते हैं?
- (a) मूर्त संक्रियात्मक अवस्था। (b) पूर्व संक्रियात्मक अवस्था। (c) संवेदीगामक अवस्था। (d) अमूर्त संक्रियात्मक अवस्था।
141. गेस्टाल्ट मनोविज्ञान के सबसे प्रमुख सदस्य
- (a) कर्ट कोपका। (b) मैक्स वर्दमिर। (c) वोल्फगैंग कोहलर। (d) ये सभी।
142. यह महसूस करने की क्षमता कि अन्य क्या महसूस कर रहे हैं, निम्न में से किसको संदर्भित करती है?
- (a) अंतवैयक्तिक क्षमता। (b) अंतर वैयक्तिक क्षमता। (c) शारीरिक-गति-संवेदी क्षमता। (d) प्राकृतिक क्षमता।
143. गिलफोर्ड और टोरेस के अनुसार निम्नलिखित में से कौन सी क्षमता रचनात्मकता का निर्माण करती है?
- I. प्रवाह
II. अंतर्निर्भरता
III. दृढ़ता
IV. मौलिकता
- (a) II, III और IV। (b) I, II, III और IV। (c) I, II और III। (d) I, III और IV।
144. भाषा सीखने में किसे ग्रहणशील कौशल के रूप में जाना जाता है?
- (a) बोलना और लिखना। (b) सुनना और बोलना। (c) पढ़ना और लिखना। (d) सुनना और पढ़ना।
145. निम्न में से सूक्ष्म शिक्षण की धारणाएँ कौन सी हैं?
- (a) यह एक वास्तविक शिक्षण है। (b) यह अधिगम में निपुणता सुनिश्चित करता है। (c) यह गैर-जटिल परिवेश के तहत किया जाता है। (d) उपरोक्त सभी।
146. बुद्धि के त्रि-आयामी सिद्धांत के प्रतिपादक कौन है?
- (a) कोहलर। (b) थॉर्नडाइक। (c) जेपी गिलफोर्ड। (d) वायगोत्स्की।
147. भाषा प्राप्त करने का सही क्रम क्या है?
- (a) सुनना, बोलना, पढ़ना, लिखना। (b) लिखना, बोलना, पढ़ना, सुनना। (c) सुनना, पढ़ना, लिखना, बोलना। (d) बोलना, सुनना, पढ़ना, लिखना।
148. राष्ट्रीय पाठ्यचर्या रूपरेखा, 2005 के अनुसार:
- (a) गणित शिक्षण का संकीर्ण उद्देश्य संख्याएँ एवं संख्या अवधारणा सिखाना और उच्चतर उद्देश्य मापन सिखाना है। (b) गणित शिक्षण का संकीर्ण उद्देश्य सटीक गणना करना सिखाना है और उच्चतर उद्देश्य कलन पढ़ाना है। (c) गणित शिक्षण का संकीर्ण उद्देश्य संख्या-संबंधी कौशल विकसित करना और उच्चतर उद्देश्य समस्या-समाधान का कौशल विकसित करना है। (d) गणित शिक्षण का संकीर्ण उद्देश्य गणितीय भाषा को विकसित करना और उच्चतर उद्देश्य शाब्दिक प्रश्न (शब्द-समस्या) हल करना है।
149. निम्नलिखित में से कौन सा सृजनात्मकता का तत्व नहीं है?

- (a) सामंजस्य (b) दूसरों के विचारों में परिवर्तन करना
- (c) समस्याएँ सुलझाना (d) तात्कालिक स्थिति से परे जाने की योग्यता
- 150. निम्नलिखित में से कौन-सी स्थिति विद्यार्थियों के अधिगम और चिंतन को सुसाध्य करेगी?**
- (a) ऐसी परिस्थितियाँ बनाना जहाँ विद्यार्थी निष्क्रिय श्रोता हों। (b) कक्षा की चर्चाओं में भागीदारी को हतोत्साहित करना।
- (c) विद्यार्थियों को अपने स्वयं के सीखने पर नियंत्रण रखने के लिए प्रतिबंधित करना। (d) विद्यार्थियों को व्यावहारिक गतिविधियाँ प्रदान करना।
- 151. निम्नलिखित में से कौन सा कथन सही नहीं है?**
- (a) वृद्धि एवं विकास दोनों अलग तथ्य हैं। (b) वृद्धि जीवन भर निरन्तर रूप से होती है।
- (c) वृद्धि विकास का एक भाग है। (d) विकास निरन्तर चलने वाली प्रक्रिया है।
- 152. निम्नलिखित में से कौन सा मुख्य रूप से आनुवंशिकता संबंधी कारक है?**
- (a) समकक्ष व्यक्तियों के समूह के प्रति अभिवृत्ति (b) आंखों का रंग
- (c) चिंतन का ढंग (d) सामाजिक गतिविधियों में भी भागीदारिता
- 153. बच्चे के समाजीकरण का उद्देश्य है-**
- (a) व्यक्तिगत-सामाजिक समायोजन को बढ़ावा देना। (b) दृष्टिकोण, पसंद और विश्वास विकसित करना।
- (c) समूह मानकों और रीति-रिवाजों की स्वीकृति को बढ़ावा देना (d) सामाजिक समूह द्वारा अपेक्षित कार्यों के स्वरूप विकसित करना
- 154. आनुवंशिकता और पर्यावरण _____ कार्य नहीं कर सकते हैं।**
- (a) साथ में (b) एक ही समय में
- (c) एकांत में (d) स्तर प्रमुखता
- 155. बौद्धिक विकास की किस अवस्था में, शिक्षार्थी के अंदर समस्या समाधान की क्षमता आती है?**
- (a) संवेदिक पेशीय अवस्था (b) पूर्व संक्रियात्मक अवस्था
- (c) मूर्त संक्रियात्मक अवस्था (d) औपचारिक संक्रियात्मक अवस्था
- 156. दूसरी कक्षा का छात्र रॉबिन राष्ट्रीय भूगोल चैनल पर जानवरों को ध्यान से देख रहा है। वह जानवरों की नई प्रजातियों का अवलोकन करता है और उन्हें अपनी स्मृति में जानवरों के मौजूदा समूह में जोड़ता है। यह _____ कहलाता है।**
- (a) आत्मसात्करण (b) स्कीमा
- (c) संतुलन (d) समायोजन
- 157. वायगोत्स्की के अनुसार समीपस्थ विकास का क्षेत्र क्या होता है?**
- (a) शिक्षक द्वारा दी जाने वाली सहायता का सीमांकन करना है जिसका आकलन नहीं किया जा सकता है
- (b) बच्चे को उसकी क्षमता प्राप्त करने के लिए प्रदान की गयी सहायता की राशि और प्रकृति
- 158. किस संदर्भ में पियाजे और वायगोत्स्की के विचार एक दूसरे से भिन्न हैं?**
- (a) पियाजे का मानना था कि भाषा का विकास सामाजिक संपर्क से होता है और वायगोत्स्की का मानना था कि भाषा स्वयं के संज्ञान द्वारा विकसित होती है। (b) पियाजे का मानना था कि बच्चे में भाषा का विकास उनके अपने संज्ञान से होता है और वायगोत्स्की का मानना था कि भाषा का विकास सामाजिक अंतःक्रिया से होता है।
- (c) (1) और (2) दोनों (d) इनमें से कोई नहीं
- 159. लॉरेंस कोहलबर्ग के सिद्धांत में, सही अर्थों में कौन सा स्तर नैतिकता की अनुपस्थिति को दर्शाता है?**
- (a) स्तर 1 (b) स्तर 2
- (c) स्तर 3 (d) स्तर 4
- 160. निम्नलिखित में से कौन सा स्कूल का वातावरण शिक्षा को अधिक प्रभावी नहीं बना पाएगा और सीखने के लिए अनुकूल नहीं होगा?**
- (a) शिक्षण- अधिगम सामग्री ठीक से संग्रहीत की जाती है और बच्चों के लिए पर्याप्त मात्रा में उपलब्ध होती है (b) शिक्षक मिलनसार और समझदार होता है
- (c) कक्षा मुक्त आवागमन के लिए पर्याप्त जगह के साथ विशाल होती है (d) कक्षा में प्रकाश और वेंटिलेशन (हवादार) पर्याप्त व्यवस्था नहीं है
- 161. शिक्षक द्वारा विकसित पाठ योजना के बारे में निम्नलिखित कथन सही है-**
- I. यह छात्रों के हित और प्रमुखता को दर्शाता है।**
II. यह शिक्षा के शिक्षकों के दर्शन से सम्बन्धित है।
- (a) केवल I (b) I और II दोनों
- (c) न ही I न ही II (d) केवल II
- 162. निम्नलिखित में से कौन-सी गतिविधियाँ शैक्षणिक विश्लेषण के पूर्व सक्रिय चरण में शामिल हैं?**
- I. सीखने के परिणामों को बताते हुए**
II. प्रवेश क्षमता का पता लगाना
III. सीखने के प्रकार की पहचान करना
- (a) I, II और III (b) II और III दोनों
- (c) I और III दोनों (d) I और II दोनों
- 163. विवेचनात्मक शिक्षाशास्त्र का यह दृढ़ विश्वास है कि**
- (a) बच्चे स्कूल से बाहर क्या सीखते हैं, यह अप्रासंगिक है (b) शिक्षार्थियों के अनुभव और प्रत्यक्ष महत्वपूर्ण होते हैं
- (c) एक शिक्षक को हमेशा कक्षा-कक्षा के अनुदेशन का नेतृत्व करना चाहिए (d) शिक्षार्थियों को स्वतंत्र रूप से तर्कणा नहीं करनी चाहिए

164. शिक्षण से अधिगम पर बल देने वाला परिवर्तन हो सकता है-
- (a) रटने को प्रोत्साहित करके (b) अग्र शिक्षण की तकनीक अपनाकर
- (c) परीक्षा परीणामों पर केन्द्रित होकर (d) बाल-केन्द्रित शिक्षा-पद्धति अपनाकर
165. निम्नलिखित में से कौन-सी प्रगतिशील शिक्षा की विशेषता है?
- (a) परीक्षाओं में अंक प्राप्त करने पर बल (b) बार-बार ली जाने वाली परीक्षाएँ
- (c) समय सारणी और बैठने की व्यवस्था में लचीलापन (d) केवल प्रस्तावित पाठ्य-पुस्तकों पर आधारित अनुदेश
166. पूर्व तंत्रिका प्रतिबद्धता की प्रारंभिक अवस्था में सीखना-
- (a) न्यूरोप्लास्टिसिटी (b) वयस्कता में सीखना
- (c) शिशु अवस्था में सीखना (d) इनमें से कोई नहीं
167. एफएमआरआई का मतलब क्या है?
- (a) मस्तिष्क में रक्त प्रवाह का मार्ग परिवर्तन (b) समय के साथ मस्तिष्क में चुंबकीय क्षेत्र में परिवर्तन
- (c) दोनों a और b (d) इनमें से कोई नहीं
168. मस्तिष्क की गतिविधियों को मापने की प्रमुख विधियाँ हैं-
- (a) ईआरपी (b) एफएमआरआई
- (c) इइजी (d) उपरोक्त सभी
169. जॉन बी. वॉटसन के प्रमुख व्यावहारिक नवाचारों में से, निम्नलिखित में से किसको बदलने की एक विधि थी?
- I. प्यार
II. डर
- (a) केवल I (b) I तथा II दोनों
- (c) न तो I न ही II (d) केवल II
170. निम्नलिखित में से कौन-सा व्यवहार सामान्य व्यवहार में से एक नहीं है जो उत्तेजना के अन्तर्गत आता है?
- (a) मानसिक व्यवहार में परिवर्तन (b) शिक्षक के हाव-भाव परिवर्तन
- (c) भाषण पैटर्न में परिवर्तन (d) मुद्राओं में परिवर्तन
171. निम्नांकित में से क्या परामर्श की विशिष्टता नहीं है?
- (a) वातावरण निर्माण (b) स्वतंत्र अभिव्यक्ति के अवसर
- (c) परामर्शदाता की सक्रियता (d) व्यक्तिगत साक्षात्कार
172. परामर्श प्रक्रिया की निम्नलिखित अवस्थाओं को उस अनुक्रम में रखें जिसमें इनका पालन किया जाता है- कोड :
- (i) परानुभूतिक समझ स्थापित करना
(ii) समापन तथा अनुवर्ती कार्यवाही
(iii) आरंभिक प्रक्रियाएँ
(iv) अंतः क्षेप कार्यनीतियाँ
- कोड :
- (a) (i), (iii), (iv), (ii) (b) (i), (ii), (iv), (iii)
- (c) (i), (iv), (ii), (iii) (d) (iv), (iii), (ii), (i)
173. निम्नलिखित में से कौन-से एस.ई.एन. वाले छात्रों के समावेशन के लाभ हैं?
- I. सामाजिक अन्योन्यक्रिया के लिए अवसर
II. सामाजिक रूप से स्वीकार्य व्यवहार का प्रक्षेपण करना और नकल करना
III. एस.ई.एन. छात्रों के विकास के लिए प्रदर्शन के उच्च मानक
- (a) I तथा III (b) I तथा II
- (c) II तथा III (d) I, II तथा III
174. निम्न में से कौन-सा सही है?
- I. समावेशी और एकीकृत शिक्षा समान है।
II. भारत में, विशेष आवश्यकता वाले बच्चों को विकलांग बच्चों के रूप में माना जाता है
- (a) I और II दोनों (b) केवल I
- (c) न तो I न ही II (d) केवल II
175. उपकरण शिक्षकों को यह निर्दिष्ट करने में मदद करता है कि विभिन्न विषयों के लिए कितनी परीक्षण रिक्त प्रदान करनी है।
- (a) टेस्ट प्रिंट (b) टेस्ट ब्लू प्रिंट
- (c) ब्लू प्रिंटर (d) इनमें से कोई नहीं
176. सामान्यतः कसौटी संदर्भित परीक्षण निम्नलिखित में से किस उद्देश्यों के लिए सबसे उपयुक्त है?
- (a) राष्ट्रीय स्तर पर उन लोगों के साथ एक स्कूल में छात्र की उपलब्धि की तुलना करना (b) शिक्षकों को यह जानने में मदद करना कि क्या उन्होंने उनके विशेष उद्देश्यों को पूरा किया है
- (c) यह निर्धारित करने में मदद करना कि छात्रों को हाई स्कूल के बाद क्या करना (d) दोनों (b) और (c)
177. शिक्षण अधिगम प्रक्रिया में शैक्षिक मूल्यांकन के कौन-कौन सा पहलू है/हैं?
- I. सामग्री
II. सीखने के मकसद
III. शिक्षण गतिविधियाँ
IV. मूल्यांकन की प्रक्रिया
- (a) I, II और III (b) II, III और IV
- (c) I, II, III और IV (d) I, III और IV
178. पारंपरिक मूल्यांकन के बारे में निम्नलिखित में से कौन-सा सही है?
- I. चिकित्सा मॉडल पर आधारित
II. प्रक्रियाओं को पाठ्यक्रम में सम्मिलित किया जाता है।
- (a) केवल II (b) I और II दोनों
- (c) केवल I (d) न तो I और न ही II
179. शिक्षा के संदर्भ में, समाजीकरण से तात्पर्य है-
- (a) समाज में बड़ों का सम्मान करना (b) सामाजिक वातावरण में अनुकूलन और समायोजन
- (c) सामाजिक मानदंडों को सदैव अनुपालन करना (d) अपने सामाजिक मानदंड बनाना

180. निम्नलिखित में से कौन-सा एक देश के सांस्कृतिक वातावरण को सबसे अच्छे से परिभाषित करता है?
- (a) जीवन स्तर और आर्थिक विकास (b) नायक, काल्पनिक कथाएं, मूल्य, दृष्टिकोण और प्रतीक
(c) राष्ट्रवाद और समुदाय सदस्यता (d) उपरोक्त सभी
181. "एक समस्या जिसे प्रस्तुत किया गया है एक चौकी को दर्शाती है जहाँ एक साधारण युद्ध के द्वारा अज्ञात को जीतने के पश्चात् पहुँचना है।" यह कथन किसने कहा था?
- (a) जॉर्ज पोल्या (b) एन. जे. फाइन्
(c) जीन प्याजे (d) रिचर्ड स्कम्प
182. 1944 में गाँधी द्वारा प्रस्तावित शिक्षा योजना के अनुसार निम्नलिखित में से कौन-सा सही नहीं है?
- (a) 14 से 22 साल तक बुनियादी शिक्षा (b) पूरे समुदाय की वयस्क शिक्षा
(c) 2 से 7 साल तक प्री बेसिक स्कूलिंग (d) बेसिक स्कूलिंग 7 से 14 साल तक
183. निम्नलिखित में से कौन-सा एक प्रकार का पाठ्यक्रम नहीं है?
- (a) क्षमता आधारित (b) विषय उन्मुख
(c) कोर (d) छात्र उन्मुख
184. एक शिक्षक द्वारा नियोजित पाठ्यक्रम के मूल्यांकन में क्या भूमिका निभाई जाती है?
- I. शिक्षक को आवश्यक रूप से औपचारिक मूल्यांकन के परिणामों की रिपोर्ट करनी चाहिए।
II. शिक्षक को मूल्यांकन और प्रगति ग्रेड के परिणामों को छात्र के साथ साझा करना चाहिए।
- (a) I और II दोनों (b) केवल I
(c) केवल II (d) न तो I न ही II
185. भारतीय संविधान के किस अनुच्छेद में अनुसूचित जातियों और अनुसूचित जनजातियों के शैक्षिक हित का ख्याल रखा गया है?
- (a) 58 (b) 12
(c) 46 (d) 23
186. शिक्षा में अवरोधन का तात्पर्य है-
- (a) बालक का विद्यालय में प्रवेश न लेना (b) बालक का विद्यालय न जाना
(c) बालक द्वारा विद्यालय छोड़ देना (d) किसी बालक का एक वर्ष से अधिक समय तक एक ही कक्षा में रहना
187. एन.यू.ई.पी.ए. (NUEPA) का पूर्ण रूप क्या है?
- (a) नेशनल इंस्ट्रूमेंट ऑफ एजुकेशनल प्लानिंग एंड एडमिनिस्ट्रेशन (b) नेशनल इंडियन प्लान ऑफ एजुकेशनल प्लानिंग एंड एडमिनिस्ट्रेशन
(c) नेशनल इंस्टिट्यूट ऑफ एजुकेशनल प्लानिंग एंड एडमिनिस्ट्रेशन (d) नेशनल इन-सर्विस प्रोग्राम ऑफ एजुकेशनल प्लानिंग एंड एडमिनिस्ट्रेशन
188. निम्नलिखित में से कौन-सा सिद्धान्त मई 2002 में संयुक्त राष्ट्र महासभा के बच्चों पर विशेष सत्र द्वारा अपनाया गया है?
- I. प्रत्येक बच्चे को शिक्षित करना
II. सभी बच्चों के लिए पोषण
III. बच्चों को युद्ध से बचाएँ
IV. किसी बच्चे को बाहर न छोड़ें
- (a) I, II, III और IV (b) I, III और IV
(c) II, III और IV (d) I, II और III
189. निम्नलिखित में से कौन शिक्षा अधिनियम, 2019 के अनुसार सही है?
- I. कोई बच्चा, प्रारम्भिक शिक्षा पूरी होने तक किसी भी कक्षा में वापस नहीं आ सकता है या निष्कासित नहीं किया जा सकता है।
II. बच्चे को जन्म प्रमाण की कमी के लिए प्रवेश से वंचित नहीं किया जा सकता है।
- (a) I और II दोनों (b) केवल I
(c) न तो I न ही II (d) केवल II
190. राष्ट्रीय पाठ्यक्रम के अनुसार फ्रेमवर्क (2005) नागरिक को उच्च प्राथमिक स्तर पर सामाजिक विज्ञान पाठ्यक्रम को सीखने के क्षेत्र द्वारा प्रतिस्थापित किया जाता है।
- (a) समाज और राजनीति (b) सामाजिक राजनीति
(c) राजनीतिक विज्ञान (d) सामाजिक और राजनीतिक जीवन
191. निम्नलिखित में से कौन-सा समुदाय को शामिल करने का एक तरीका हो सकता है?
- I. समुदाय के प्रतिनिधियों द्वारा उपस्थिति की निगरानी करना।
II. समुदाय के समर्थन के साथ छात्रों को व्यवसायिक कौशल सिखाना।
- (a) केवल II (b) न तो I न ही II
(c) I और II (d) केवल I
192. कक्षा में चीजों के गलत होने का संभावित कारण क्या नहीं हो सकता है।
- (a) एक बाहरी गड़बड़ी। (b) कक्षा नियंत्रण से बाहर।
(c) छात्र स्कूल नहीं आया। (d) एक गतिविधि काम नहीं करती है।
193. यदि कुछ विशिष्ट मूल्यों वाले डेटा को आरोही क्रम या अवरोही क्रम में व्यवस्थित किया जाता है, तो उस डेटा को--
---के रूप में जाना जाता है। I. अप्रसंस्कृत डेटा/कच्चा डेटा
II. श्रेणीबद्ध डेटा/संग्रहित डेटा
- (a) केवल I (b) न तो I और न ही II
(c) केवल II (d) I और II दोनों
194. आप देखते हैं कि सामाजिक विज्ञान की कक्षा में विद्यार्थी कुछ पूर्वाग्रहों का प्रदर्शन करते हैं। आपकी सबसे उपयुक्त प्रतिक्रिया होगी।
- (a) पढ़ाए जा रहे अध्याय को पढ़ाना बंद कर देंगे (b) सामाजिक यथार्थ के आयामों पर एक परिचर्चा का आयोजन करेंगे
(c) इन टिप्पणियों पर ध्यान नहीं देंगे (d) विद्यार्थियों को दंडित करेंगे

दूँगा

करूँगा

195. आप 'नए राज्य' पाठ में 'चोल' विषय पढ़ा रहे हैं। पाठ के अंत में 'अन्यत्र' खंड में चीन के तांग राजवंश पर सूचना दी गयी है (कक्षा VII, हमारे अतीत II पृष्ठ संख्या 28) सामाजिक विज्ञान के शिक्षक होने के नाते इस पर विचार-विमर्श करते समय आपका शैक्षिक विचार क्या होगा?
- (a) विद्यार्थियों को रोचक तथ्यों के प्रति जागरूक करना (b) विद्यार्थियों को चीन के अतीत पर कल्पना करने का अवसर प्रदान करना
- (c) विभिन्न समाजों में ऐतिहासिक विकास की तुलना करना (d) विद्यार्थियों को विश्व इतिहास से परिचित कराना
196. किसी ऐतिहासिक वर्णन का चुनाव करते समय निम्नलिखित में से किस उद्देश्य पर विचार किया जाना चाहिए?
- (a) कारणात्मक सम्बन्ध और निष्कर्ष स्थापित करना (b) मूल्यपरक निर्णय देना
- (c) लोकप्रिय घटनाओं को उजागर करना (d) प्रसिद्ध व्यक्तियों का मूल्यवर्धन करना (valorizing)
197. डाइंग के अलावा कौन-से कौशल "चित्र श्रुतिलेख" में देखे जाते हैं?
- (a) पढ़ना (b) गाना
- (c) बोलना (d) सुनना
198. लिखने की प्रक्रिया को अच्छी चीज क्यों माना जाता है?
- (a) कई बच्चे लेखन के कौशल में महारत हासिल करने में लम्बा समय लेते हैं (b) यह अधिगम प्रक्रिया में एक और भौतिक आयाम जोड़ता है
- (c) एक विदेशी भाषा में लिखना अक्सर त्रुटियाँ सही करने से जुड़ा होता है (d) कोई हाव भाव की भाषा (बॉडी लैंग्वेज) का इस्तेमाल नहीं कर सकता
199. एन.बी.टी. का संक्षिप्त रूप क्या है?
- (a) नेशनल बैलेंस ट्रस्ट (b) नॉन बैलेंस ट्रस्ट
- (c) नेशनल बुक ट्रस्ट (d) नेशनल बायोग्राफी
200. निम्नलिखित में से कौन-सी सिफारिशों में पूर्व सेवा तथा सेवा में शिक्षक-शिक्षा कार्यक्रमों के विषय-वस्तु के लिए निहितार्थ हैं?
- I. पढ़ाने वाले सभी शिक्षकों को अंग्रेजी में आधारभूत प्रवीणता होनी चाहिए।
- II. सभी शिक्षकों के पास उनकी स्थितियों और स्तरों के अनुसार उचित तरीके से अंग्रेजी सिखाने का कौशल होना चाहिए।
- (a) I तथा II दोनों (b) न तो I न ही II
- (c) केवल I (d) केवल II